

## Gestion de Tests dans une entreprise

Une entreprise d'e-commerce vend des meubles tous identifiés par une référence et par un QR code<sup>1</sup>. Tous les clients sont identifiés par leur numéro de sécurité sociale. Tous les achats s'effectuent à l'aide d'un numéro de carte de crédit. Cette entreprise met en œuvre différents tests afin d'éviter les erreurs de numéros de sécurité sociale, de numéros de carte de crédit ou de QR codes.

### Partie I - Tests de code de sécurité sociale

En France, le numéro de sécurité sociale correspond au numéro d'inscription au répertoire national d'identification des personnes physiques (RNIPP). Il est formé du numéro d'inscription (NIR) à 13 chiffres et d'une clé de contrôle à 2 chiffres. Le NIR, créé à partir de l'état civil, est composé de la façon suivante :

- Sexe (1<sup>er</sup> chiffre) ;
- Année de naissance (les deux chiffres suivants) ;
- Mois de naissance (les deux chiffres suivants) ;
- Lieu de naissance (les cinq chiffres ou caractères suivants - 2 chiffres<sup>2</sup> du code du département de naissance, suivis de 3 chiffres du code commune officiel de l'Insee<sup>3</sup>) ;
- Numéro d'ordre permettant de distinguer les personnes nées au même lieu à la même période (les 3 chiffres suivants).

Les deux derniers chiffres, compris entre 01 et 97, permettent de déterminer la clé, appelée aussi "clé de contrôle", qui permettra de contrôler l'exactitude du numéro de sécurité sociale.

Pour obtenir cette clé, on détermine tout d'abord, le reste de la division par 97 du nombre formé par les 13 premiers chiffres. La clé correspond au résultat de ce nombre retranché de 97.

Exemple : soit le numéro de sécurité sociale à 13 chiffres : "2 91 01 75 018 002". Le reste de la division de 2910175018002 par 97 est égal à 29. La clé est constituée du résultat :  $97 - 29 = 68$ . Le numéro de sécurité sociale complet est donc : "2 91 01 75 018 002 68".

Dans cette partie, le numéro de sécurité sociale de 13 chiffres est une chaîne de caractères composée uniquement de chiffres avec des espaces de séparation entre les différents éléments constituant ce numéro. On ne prendra pas en compte le cas de la Corse.

Ne pas oublier qu'il est toujours possible de transformer un nombre entier en une chaîne de caractères composées de chiffres (fonction *str*) et réciproquement (fonction *int*), (**annexe 3**).

**Q1.** Écrire la fonction *num\_secu* qui, à partir de la chaîne de caractères d'un numéro de sécurité sociale, donne le numéro sous la forme d'un entier. Le programme devra parcourir la chaîne de caractères représentant le numéro de sécurité sociale en supprimant les caractères d'espacement, puis la transformer en un nombre entier. Cette fonction a un paramètre de type *string* et retourne une valeur de type *int*.

1. Un QR code (Quick Response code) désigne un type de code-barres en deux dimensions, lequel se compose de modules noirs disposés dans un carré à fond blanc (voir **figure 1**).

2. Pour simplifier le problème, nous supposons que les deux départements corses 2A et 2B sont représentés par le code 20 comme avant 1976.

3. Institut national de la statistique et des études économiques.

Exemple :

```
>>> num_secu("2 91 01 75 018 002")
2910175018002
```

**Q2.** Écrire la fonction *clef* qui détermine la valeur de la clé d'un numéro de sécurité sociale. Cette fonction a un paramètre de type *int* et retourne un élément de type *int*.

Exemple :

```
>>>clef(2910175018002)
68
```

**Q3.** Écrire la fonction *num\_secu\_complet* qui détermine le numéro complet de sécurité sociale. Cette fonction a un paramètre de type *int* et retourne un élément de type *int*.

Exemple :

```
>>>num_secu_complet(2910175018002)
291017501800268
```

**Q4.** Écrire la fonction *test\_num\_secu* qui détermine si un numéro de sécurité sociale est correct. Cette fonction a un paramètre de type *string* et retourne un élément de type *bool*.

Exemples :

```
>>>test_num_secu('2 91 01 75 018 002 68')
True
>>>test_num_secu('2 91 01 75 018 002 93')
False
```

## Partie II - Test de numéro de carte de crédit

Pour savoir si un numéro de carte de crédit est valide, on utilise très souvent l'algorithme de Luhn<sup>4</sup>. Comme pour le numéro de sécurité sociale, il y a une clé appelée somme de contrôle (checksum en anglais) qui fait partie du numéro d'une carte de crédit. Ce numéro est un entier composé de 16 chiffres. Le dernier chiffre est la clé qui permet de contrôler l'exactitude du numéro.

Le principe de l'algorithme de Luhn est le suivant. On commence toujours par le chiffre se trouvant le plus à droite. Ce chiffre sera le premier élément de la liste dites des "indices impairs". Puis on complète cette liste en prenant un chiffre sur deux du numéro de carte bancaire, toujours en le lisant de la droite vers la gauche.

Pour la liste des chiffres "d'indices pairs", on commence par le deuxième chiffre le plus à droite du numéro de la carte de crédit, on se déplace de la droite vers la gauche comme pour la liste précédente et on construit la liste, en prenant un chiffre sur deux. Pour les nombres de cette liste des indices pairs, on double tous les chiffres. Si un nombre est supérieur à 9, on réalise la somme des deux chiffres qui le composent (exemple si on obtient 16, on additionne 1 et 6 pour avoir 7). Par conséquent, tous les nombres des deux listes sont

---

4. L'algorithme de Luhn, ou code de Luhn, ou encore formule de Luhn est aussi connu comme l'algorithme "modulo 10".

composés uniquement de chiffres compris entre 0 et 9. On calcule alors la somme totale des chiffres de ces deux listes. Si cette somme est un multiple de 10, alors le numéro de la carte de crédit est valide.

Exemple : soit 4762 un nombre (on se limite à 4 chiffres mais le raisonnement est identique pour un nombre à 16 chiffres). Appliquons-lui la formule de Luhn. On commence par le chiffre 2, celui se trouvant le plus à droite. Le nombre 4762 se transforme en deux listes correspondant aux indices impairs et pairs soit [2, 7] et [6, 4]. Puis en deux autres listes, la liste des indices impairs inchangés [2, 7] et la liste des indices pairs doublés [12, 8]. La somme des éléments de ces deux listes est égale à 20 car la liste des indices pairs [12, 8] se réduit en la liste [3, 8] du fait de la sommation des chiffres constituant le nombre 12. La somme des éléments des deux listes obtenues [2, 7] et [3, 8] est bien égale à 20. Ce résultat est un multiple de 10, le nombre 4762 est donc correct au sens de l'algorithme de Luhn.

On aurait pu raisonner sur une seule liste et obtenir le même résultat. 4762 se transforme en la liste [8, 7, 12, 2] puis en la liste [8, 7, 3, 2] après réduction. La somme des chiffres  $8+7+3+2$  est égale à 20.

**Q5.** Écrire une fonction *num\_en\_liste* qui transforme un nombre entier en une liste de chiffres. Cette fonction a un paramètre de type *int* et retourne un élément de type *list*.

Exemple :

```
num_en_liste(4532015112830465)
[4, 5, 3, 2, 0, 1, 5, 1, 1, 2, 8, 3, 0, 4, 6, 5]
```

**Q6.** Écrire une fonction *tuple\_pairs\_impairs* qui détermine un tuple représentant la liste des chiffres d'indice pair et la liste des chiffres d'indice impair d'un numéro de carte de crédit. Le chiffre le plus à droite de ce numéro est considéré comme le premier chiffre d'indice impair. Cette fonction a un paramètre de type *int* et retourne un *tuple* composé de deux éléments de type *list*.

Exemple :

```
tuple_pairs_impairs(4532015112830465)
([6, 0, 8, 1, 5, 0, 3, 4], [5, 4, 3, 2, 1, 1, 2, 5])
```

**Q7.** Écrire une fonction *cree\_dico* qui, à partir d'un numéro de carte de crédit, crée un dictionnaire avec deux clés nommées '*pair*' et '*impair*'. La clé '*pair*' est constituée de la liste des nombres d'indice pairs du numéro de la carte de crédit et la clé '*impair*' de la liste des nombres d'indice impairs.

Exemple :

```
>>> cree_dico(4532015112830465)
{'pair': [6, 0, 8, 1, 5, 0, 3, 4], 'impair': [5, 4, 3, 2, 1, 1, 2, 5]}
```

**Q8.** Écrire une fonction *traitement\_nb\_pairs* qui multiplie par 2 tous les chiffres de la liste associée à la clé '*pair*'. Si un chiffre est supérieur à 9, il faut réaliser la somme des deux chiffres qui le composent. Cette fonction a un paramètre de type dictionnaire et retourne un dictionnaire.

Remarque : la partie correspondant à la clé '*impair*' n'est pas modifiée par le traitement de cette fonction.

Exemple :

```
>>> un_dico=cree_dico(4532015112830465)
>>> traitement_nb_paires(un_dico)
{'pair': [3, 0, 7, 2, 1, 0, 6, 8], 'impair': [5, 4, 3, 2, 1, 1, 2, 5]}
```

**Q9.** Écrire une fonction *test\_num\_carte\_credit* qui utilise l'algorithme de *Luhn* pour savoir si un numéro de carte de crédit est correct. Vous devez utiliser la fonction *traitement\_nb\_pair* pour sa réalisation. Cette fonction a un paramètre de type *int* et retourne une valeur de type *bool*.

Exemple :

```
>>> test_num_carte_credit(4532015112830465)
True
```

### Partie III - Tests de QR code

Les QR codes ont été inventés en 1994, par Masahiro Hara, un ingénieur de l'entreprise japonaise Denso-Wave. Cette invention a permis d'assurer le référencement des pièces détachées dans les usines Toyota. Les QR codes sont constitués essentiellement de pixels noirs et blancs codés dans le format RGB (**annexe 1**). Cependant, il existe des QR codes bicolores mais avec un jeu de couleurs très contrastées. Les QR codes peuvent être partiellement raturés ou déchirés car un de leurs avantages est qu'ils peuvent accepter un certain taux d'erreurs, entre 7 % et 30 % suivant la version du QR code. Il existe 40 versions qui peuvent stocker entre 10 et 7089 caractères numériques. Nous nous restreignons ici à la version 1 qui utilise une matrice de 21\*21 pixels pour sa représentation.

En fait sur la **figure 1**, l'image du QR code correspond à une matrice de 420\*420 pixels (**programme P1**), alors que la matrice initiale d'un QR code de version 1 ne compte que 21\*21 pixels. Pour qu'un QR code soit plus visible, on a créé la notion de module qui correspond à un bloc de pixels identiques pour représenter un pixel du QR code initial. C'est un mécanisme de zoom pour que le QR code soit visible. Un module a une taille de 20\*20 pixels. Chaque module représente globalement une valeur binaire : 1 pour le blanc et 0 pour le noir. Attention : ne pas confondre la taille d'un QR code (ici, 420\*420) avec la taille d'un module (ici, 20\*20) [la valeur 420 correspond à 21\*20]. Enfin, un QR code est constitué de différents éléments : des motifs de positionnement (3 blocs de 7\*7 pixels), des motifs de synchronisation (6 zones blanches de séparation et 11 pixels de couleur blanc et noir), des motifs de format d'information et une zone comprenant les données utilisateurs avec des motifs de correction (**figure 2**).

Dans la suite de cette partie, nous n'utiliserons que les QR codes de version 1.



Figure 1 - QR code version 1

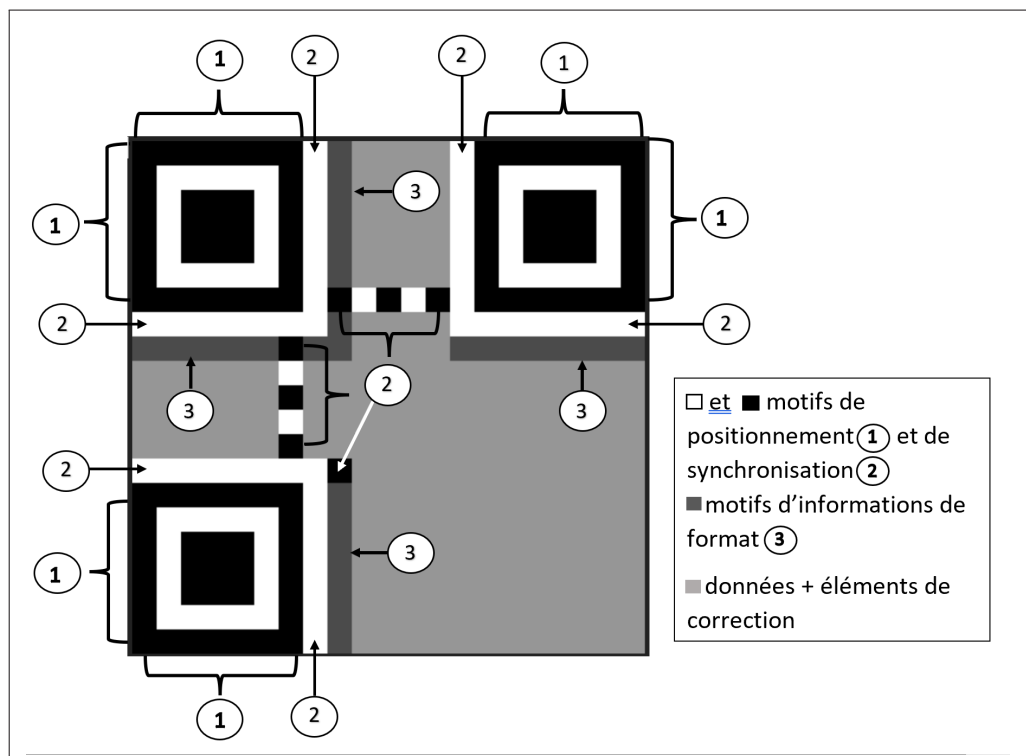


Figure 2 - Organisation d'un QR code

**Q10.** Écrire une fonction *init* qui réalise l'initialisation d'une liste de dimension  $n$  où chaque élément est également une liste de dimension  $n$ . Cette liste de listes représente ainsi une matrice de taille  $n \times n$ . Cette fonction a un paramètre de type *int* et retourne une liste de listes qui représente un QR code initialisé avec des valeurs 0.

Exemple :


```
>>> init(4)
[[0, 0, 0, 0], [0, 0, 0, 0], [0, 0, 0, 0], [0, 0, 0, 0]]
```

On donne le programme **P1** suivant : (**annexe 1** pour la description du module *Gestion\_QRCode*).

```
P1
1  from Gestion_QRCode import *
2
3  img=open("../Image/ccinp.png").....# Lecture de l'image
4  img.show().....# Affichage de l'image (figure 1)
5  largeur,hauteur=img.size.....# La taille de l'image (largeur, hauteur)
6  position = (largeur,hauteur) .....# Résultat : (420, 420)
```

**Q11.** Écrire la fonction *charge\_valeur* qui a pour but de réduire les données de l'image dans une liste de listes de dimension 21\*21. Attention : l'image correspondant à un QR code représente une liste de listes de dimension 420\*420 dont on veut réduire tous les blocs constitués de 20\*20 pixels à un seul pixel pour avoir à partir de l'image une liste de listes de dimension 21\*21. Ne pas oublier que tous les pixels d'un bloc sont identiques. Cette fonction a un paramètre de type image et retourne une liste de listes de triplets (couleur des pixels).  
Indication : utiliser la fonction *getpixel* du module Python *Gestion\_QRCode* (voir sa définition dans l'**annexe 1**).

On prend comme bloc de positionnement celui représenté dans la **figure 3**.



**Figure 3** - Bloc de positionnement

**Q12.** Écrire une fonction *creer\_bloc* qui crée un bloc de positionnement. Cette fonction, qui n'a pas de paramètre, retourne une liste de listes de dimension 7\*7.

Exemple :

```
>>> cree_bloc()
[[0, 0, 0, 0, 0, 0, 0],
 [0, 1, 1, 1, 1, 1, 0],
 [0, 1, 0, 0, 0, 1, 0],
 [0, 1, 0, 0, 0, 1, 0],
 [0, 1, 0, 0, 0, 1, 0],
 [0, 1, 1, 1, 1, 1, 0],
 [0, 0, 0, 0, 0, 0, 0]]
```

**Q13.** Écrire une fonction `test_bloc` qui teste si un bloc de positionnement (rappel : il y en a trois) est bien représenté pixel par pixel dans un QR code. Cette fonction a 3 paramètres : les coordonnées  $x$  et  $y$  donnant la position du début d'un bloc de positionnement d'un QR code (toujours les coordonnées du pixel le plus haut et à gauche) et la liste de listes de dimension  $21*21$  associée au même QR code. Cette fonction retourne un booléen.

Remarque : on cherche à tester si un bloc de positionnement d'un QR code n'a pas subi une modification. Les coordonnées du pixel le plus haut et à gauche pour le premier bloc sont égales à (0,0), pour le second bloc à (0,14) et pour le troisième bloc à (14,0).

Exemples :

```
>>> test_bloc(0,0, mat1)
True
>>> test_bloc(1,3, mat1)
False
```


**Q14.** On considère qu'un QR code est bien positionné lorsque ses 3 blocs de contrôle sont effectivement présents en haut à gauche, en haut à droite et en bas à gauche (comme sur la **figure 1**). Écrire une fonction `test_QRcode` qui permet de tester si un QR code est bien positionné. Cette fonction a pour paramètre une matrice de dimension  $21*21$  et retourne un booléen.

Exemple :

```
>>> test_QRcode(mat1)
True
```

Lors de la lecture d'un QR code par un appareil dédié (scanner, caméra ou autre) le processus de lecture permet de placer un QR code dans l'une des quatre positions possibles, comme illustré dans la **figure 4**. Cela dépend bien évidemment de l'orientation du QR code lors de sa lecture.

On se propose de faire tourner un QR Code par rotation successive de  $90^\circ$  afin qu'il puisse se trouver dans la bonne position comme celui de la **figure 1**.



**Figure 4** - Les 4 positions possibles lors de la lecture d'un QR code

**Q15.**

Écrire une procédure<sup>5</sup> `tourHoraire` qui réalise une rotation de  $90^\circ$ , dans le sens des aiguilles d'une montre, des 4 éléments du QR code. La fonction a trois paramètres, les coordonnées  $x$  et  $y$  d'un élément de la liste de listes et une liste de listes de dimension  $21*21$ .

5. Une procédure est une fonction qui retourne la valeur `None` mais cette valeur n'est pas destinée à être utilisée ou à être capturée.

Exemple :

```
>>> tourHoraire(0,1, mat1)
```

On se limite à un exemple d'une liste de listes de dimension 4\*4 pour expliquer le fonctionnement, mais ce serait la même chose pour une liste de listes de dimension 21\*21. Si on prend les 4 éléments (*b*, *h*, *o*, *i*) de la liste de listes **table 1** de la **figure 5**, *b* doit se trouver, après une rotation de 90°, à la place de l'élément *h*, l'élément *h* à la place de l'élément *o*, l'élément *o* à la place de l'élément *i* et l'élément *i* à la place de l'élément *b*. Le résultat de la transformation est illustré dans la **table 2** de la **figure 5**. Le mécanisme doit s'exécuter de la même manière sur les autres éléments de la **table 2**. Le résultat de la transformation finale est illustré dans la **table 3** de la **figure 5**.

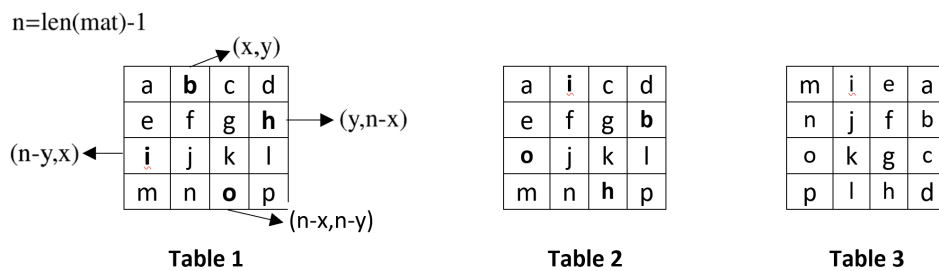


Figure 5 - Simple rotation

**Q16.** Écrire la procédure *rotationHoraire* qui réalise la rotation de 90° d'un QR code. Cette procédure a un seul paramètre, une liste de listes de dimension 21\*21. Par exemple, dans la **figure 4** cette fonction réalisera la première rotation de 90° du QR code.

**Q17.** Connaissant les 4 positions possibles lors de la lecture d'un QR code par un appareil dédié, écrire la procédure *QRcode\_posi* qui positionne correctement un QR code. Cette procédure a un seul paramètre, une liste de listes de dimension 21\*21. Indication : utiliser les fonctions *rotationHoraire* et *test\_QRcode* .

## Partie IV - Gestion réseau

Cette entreprise possède de nombreux magasins dans le monde entier. Des serveurs ont été placés dans tous les pays et sont nommés par des lettres.

Les différentes informations envoyées dans le réseau circulent de serveur en serveur. Les serveurs sont représentés par des nœuds, **figure 6**, et plusieurs routes sont possibles entre chacun d'eux. Le poids associé aux arêtes correspond à la valeur du temps de transmission entre deux nœuds du graphe multiplié par un facteur correctif. L'entreprise souhaite optimiser les temps de transmission entre deux nœuds du réseau en utilisant l'algorithme de Dijkstra.

L'algorithme de Dijkstra permet de déterminer les plus courts chemins à partir d'un sommet unique  $s \in S$  vers les autres sommets d'un graphe pondéré orienté ou non  $G = (S, A)$ , avec  $S$  un ensemble de sommets et  $A$  un ensemble d'arêtes qui sont des paires de sommets. Toutes les arêtes de  $G$  sont de poids positif.

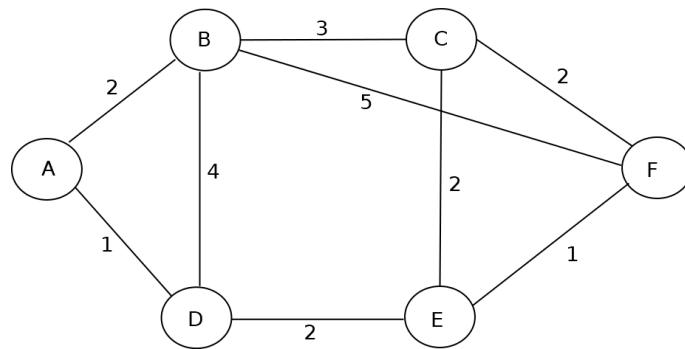


Figure 6 - Organisation des serveurs

### Principe de l'algorithme de Dijkstra

Entrée :

$G(S,A)$  : un graphe pondéré,

$d$  : le sommet de départ à partir duquel on veut déterminer les plus courts chemins aux autres sommets,

$P$  : construction d'un sous-graphe tel que la distance entre un sommet de  $P$  depuis  $d$  soit définie et soit un minimum dans le graphe  $G$ ,

*Parent* : tableau pour noter les sommets par où on passe. *Parent* est utilisé comme le tableau des précédents de chaque sommet, initialisé avec un élément n'appartenant pas à  $S$ ,

$M$  : tableau où les indices représentent les sommets du graphe : 0 désigne le sommet "A", 1 désigne le sommet "B", 2 désigne le sommet "C", etc...

Les éléments de ce tableau sont corrigés au fur et à mesure de l'algorithme afin d'obtenir les distances les plus courtes du sommet de départ à un sommet du graphe.

Début :

$P \leftarrow \emptyset$

$M[d] \leftarrow 0$  // la distance de  $d$  à lui-même est égale à 0

$M[s] \leftarrow +\infty$  pour chacun des sommets du graphe autre que  $d$

Tant qu'il existe un sommet qui ne soit pas dans  $P$

Choisir un sommet  $s$  hors de  $P$  de plus petite distance  $M[s]$

Ajouter  $s$  à  $P$

Pour chaque sommet  $u$  hors de  $P$  mais voisin de  $s$

si  $M[u] > M[s] + \text{poids}(s,u)$

$M[u] = M[s] + \text{poids}(s,u)$

$\text{Parent}[u] = s$  // le sommet  $s$  est le prédécesseur du sommet  $u$

Fin du pour

Fin tant que

Fin

En utilisant l'algorithme de Dijkstra, on souhaite déterminer tous les plus courts chemins, en terme de temps de communication, en partant du sommet A du graphe de la **figure 6**.

Il est plus simple de réaliser l'exécution de l'algorithme de Dijkstra avec un tableau particulier que l'on nomme  $M+$ . Ce tableau est dans le **DR**. Une première colonne précise l'évolution des distances d'un sommet spécifique depuis le sommet de départ lors de l'exécution de l'algorithme. Chaque ligne correspond à une étape de l'algorithme. Chaque ligne donne les valeurs des distances courantes des sommets depuis le sommet de départ avec éventuellement une mise à jour si une distance est plus petite que celle déjà calculée.

Dans le tableau  $M+$ , l'élément  $B(2_A)$  correspond à la colonne choisie qui est  $B$ , à la valeur 2 du chemin et au sommet précédent  $A$ . Sur la ligne de l'élément  $B(2_A)$  on choisit la valeur ③ de la colonne  $E$  pour l'étape suivante.

**Q18.** Compléter les 3 lignes manquantes du tableau  $M+$  sur le **DR**.

**Q19.** Donner la valeur du plus court chemin entre "A" et "F". Expliquer comment on obtient cette valeur à l'aide du tableau  $M+$ . Expliciter le chemin le plus court trouvé pour aller de "A" à "F".

## Partie V - Requêtes SQL

L'entreprise possède une base de données nommée *Gestion\_Entreprise* constituée de trois tables : clients, produits et ventes. Les contenus de ces tables se trouvent en **annexe 2**.

La table "**clients**" est constituée de 5 champs :

- *id* : de type INTEGER – clé primaire auto-incrémentée ;
- *num\_secu* : de type INTEGER – entier de 15 chiffres ;
- *nom* : de type TEXT ;
- *prenom* : de type TEXT ;
- *num\_CB* : de type INTEGER.

La table "**produits**" est constituée de 5 champs :

- *id* : de type INTEGER – clé primaire auto-incrémentée ;
- *ref\_produit* : de type INTEGER ;
- *nom\_produit* : de type TEXT ;
- *qrcode* : de type TEXT ;
- *prix* : de type DECIMAL.

La table "**ventes**" est constituée de 3 champs :

- *date* : de type TEXT ;
- *ref\_produit* : de type INTEGER ; – clé étrangère, pointe vers la clé primaire *id* de la table *produits* ;
- *num\_client* : de type INTEGER ; – clé étrangère, pointe vers la clé primaire *id* de la table *clients*.

Les dates dans cette table sont définies par une chaîne de 10 caractères suivant le format *année-mois-jour*. Exemple de dates : "2019-06-01", "2022-12-30".

**Q20.** Écrire, en SQL, la requête (1) qui permet d'obtenir le numéro de carte de crédit de toutes les personnes référencées dans la base de données de l'entreprise dont le numéro de sécurité sociale commence par 2. On utilisera le caractère "\_" comme le séparateur des milliers. Par exemple 10000000 sera réécrit comme 10\_000\_000.

**Q21.** Écrire, en SQL, la requête (2) permettant d'obtenir le nom et le prénom de toutes les personnes ayant effectué un achat avec un résultat sans doublon.

**Q22.** Écrire, en SQL, la requête (3) qui permet d'obtenir les produits associés à chaque numéro de carte de crédit du client et qui ont été vendus entre le 1 juin 2020 et le 30 juillet 2020. On rappelle que SQL compare les variables de type TEXT grâce à l'ordre lexicographique : par exemple "13-06-1989 < 13-07-1999" est vrai.

# Annexe 1

## Module "Gestion\_QRCode"

### fonction `Gestion_QRCode.open(fp)`

\* Paramètre :

- `fp` : nom de fichier (chaîne de caractères) représentant une image sous différents formats tels que PPM, PNG, JPEG, GIF, TIFF et BMP.

\* Retour :

- retourne une variable qui est un descripteur d'image (un objet image).

Attention : la valeur retournée n'est en aucun cas une liste de listes ou une liste de listes similaire à celle de la bibliothèque *Numpy*.

Exemple :

```
img=Gestion_QRCode.open("uneImage.png")
```

### fonction `Gestion_QRCode.Show()`

\* Retour :

- retourne la valeur `None`.<sup>6</sup>

Cette fonction affiche l'image dans n'importe quelle visionneuse d'images.

Exemple :

```
img.show()
```

### attribut `Gestion_QRCode.size`

Permet de connaître la taille de l'image en pixels, le résultat est un tuple (largeur, hauteur).

Exemple :

```
print(img.size)
```

```
>>> (360, 160)          # soit largeur = 360 pixels et hauteur = 160 pixels
```

### fonction `Gestion_QRCode.getpixel(x,y)`

\* Paramètres :

- `x` : la coordonnée x du pixel référencé ;
- `y` : la coordonnée y du pixel référencé.

\* Retour :

- retourne les attributs de la couleur du pixel, au format RVB<sup>7</sup>

La valeur retournée est un tuple (r,v,b) correspondant à la couleur du pixel : le plus souvent (0,0,0) pour un pixel noir et (255,255,255) pour un pixel blanc pour un QR code.

Exemple :

```
(r,v,b)= img.getpixel(100,30)
```

```
>>> (0, 0, 0)          # pour un pixel noir
```

---

6. La valeur *None* est une valeur qui correspond à l'absence de valeur.

7. Le système RVB (Rouge, Vert, Bleu), ou en anglais RGB (Red, Green, Blue), permet de coder les couleurs en informatique. Un écran informatique est composé de pixels représentant une couleur au format RVB. La composante R est codée sur 8 bits de 0 à 255 en décimal. Il en va de même pour les composantes suivantes. Le codage des couleurs va du plus foncé au plus clair.

# Annexe 2

## Base de données "Gestion\_Entreprise"

Le contenu des tables *clients*, *produits* et *ventes* de la base de données *Gestion\_Entreprise* est donné ci-après.

**Table "clients"**

<b>id</b>	<b>num_secu</b>	<b>nom</b>	<b>prenom</b>	<b>num_CB</b>
1	286128817863441	Eldyn	Sophie	6767342589219928
2	298082934500890	Gomez	Maria	2324563490665454
3	298082934500896	Ruiza	Flor	9889454573204522
4	109086723487917	Kovitz	Boris	6789543778653678
5	175105642102321	Mottreff	Erwan	4745342178563217
6	189027511732543	Settin	Michel	7856432167453492
7	191017511318196	Valérie	Georges	8787564521392354
...	...	...	...	...

**Table "produits"**

<b>id</b>	<b>ref_produit</b>	<b>nom_produit</b>	<b>qrcode</b>	<b>prix</b>
1	27	Buffet chêne	27.jpg	320
2	102	Chaise rustique	102.jpg	65
3	453	Table ronde	453.jpg	75
4	756	Table ovale	756.jpg	120
5	921	Coffret Bali	921.jpg	170
...	...	...	...	...

**Table "ventes"**

<b>date</b>	<b>ref_produit</b>	<b>num_client</b>
2020-05-15	2	2
2020-06-17	3	1
2020-06-21	3	7
2020-07-19	4	5
2020-08-19	5	5
2020-09-05	4	6
...	...	...

# Annexe 3

## Rappels des syntaxes en Python

Définir une liste.	<pre>L = [1, 2, 3] &gt;&gt;&gt; L[0] 1</pre>
Définir une liste de listes.	<pre>LL = [[1, 2], [3, 4], [5, 6], [7, 8]] &gt;&gt;&gt; LL[1] [3, 4]</pre>
Ajouter un élément à la fin d'une liste.	<pre>L.append(5) LL.append([9, 10])</pre>
Convertir un nombre entier en une chaîne de caractères.	<pre>&gt;&gt;&gt; str(12345) '12345'</pre>
Convertir une chaîne de caractères en un nombre entier. Attention : si la chaîne de caractères contient un espace, l'appel de la fonction <i>int</i> provoque une erreur.	<pre>&gt;&gt;&gt; int('12345') 12345</pre>
$a//b$ donne le quotient de la division euclidienne de $a$ par $b$ .	<pre>&gt;&gt;&gt; 10//3 3</pre>
$a\%b$ donne le reste de la division euclidienne de $a$ par $b$ .	<pre>&gt;&gt;&gt; 10%3 1</pre>
Définir une chaîne de caractères.	<pre>mot='Python'</pre>
Longueur d'une chaîne.	<pre>len(mot)</pre>
Le slicing permet d'extraire des éléments d'une liste ou d'une chaîne.	<pre>si L = [6, 8, 5, 3, 7] L[2 : 4] --&gt; [5, 3] L[: 3] --&gt; [6, 8, 5] L[3 :] --&gt; [3, 7] L[:: 2] --&gt; [6, 5, 7] L[2 : -1] --&gt; [5, 3] L[-1] --&gt; 7 mot[2 : 7] --&gt; 'thon'</pre>

**FIN**